


Matematik Tahun 4 Mari Menganggar

Nama: _____ Kelas: _____

Arahan: Nyatakan kuantiti kertas yang diperlukan dengan anggaran yang munasabah.
Kemudian tulis kuantiti sebenar dan bandingkan

Pasangan Petak	Kuantiti Anggaran	Kuantiti Sebenar
1		
2		
3		
4		
5		
6		
7		
8		
9		

Pasangan Petak



Set rujukan

Anggarkan Bilangan Petak perlu di tampal



Pasangan Petak

Set rujukan

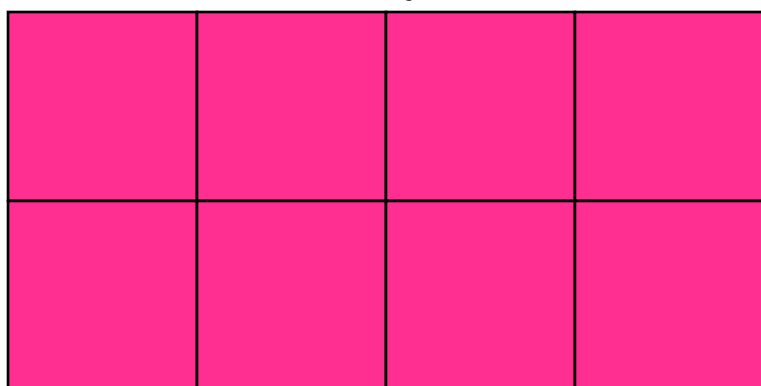
Anggarkan Bilangan Petak perlu di tampal

Pasangan Petak

Set rujukan




Set rujukan



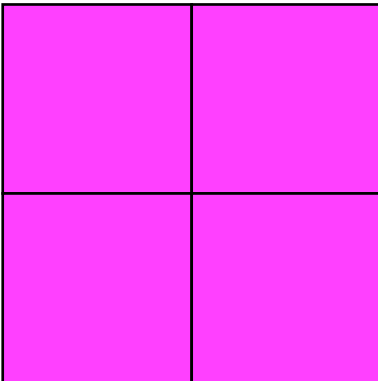
Pasangan Petak

Set rujukan



Anggarkan Bilangan Petak
perlu di tampal

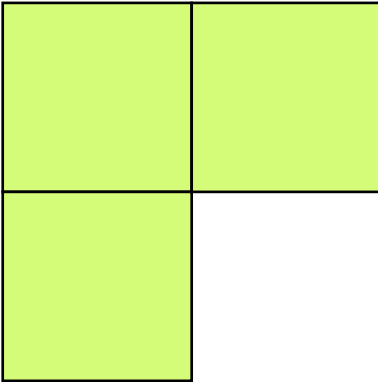
Set rujukan



Anggarkan Bilangan Petak perlu di tampal

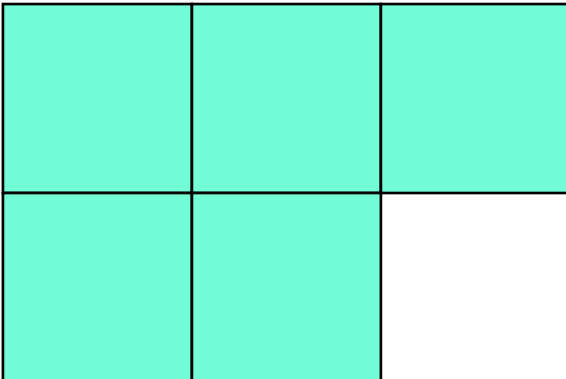
Pasangan Petak

Set rujukan



Anggarkan Bilangan Petak
perlu di tampal

Set rujukan



Anggarkan Bilangan Petak perlu
di tampal

Pasangan Petak

Set rujukan

Anggarkan Bilangan
Petak perlu di tampal

